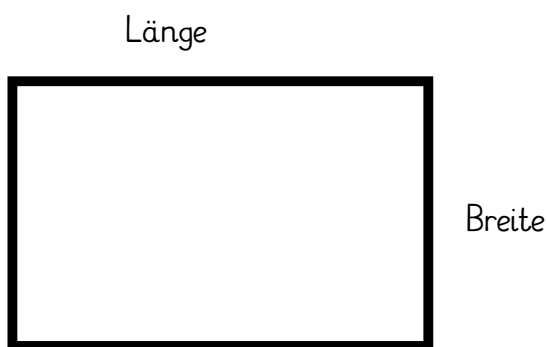
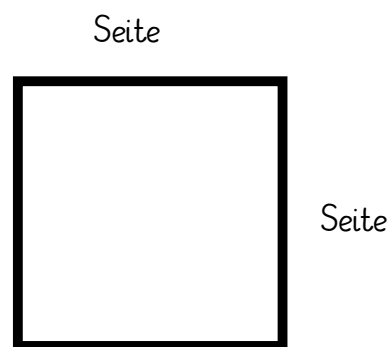


Umfang berechnen



RECHTECK

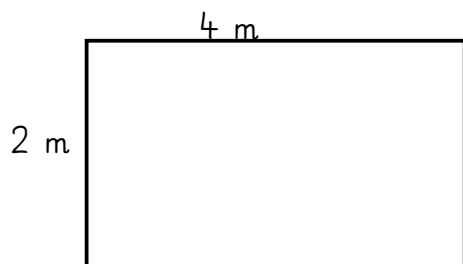
Immer zwei Seiten sind gleich lang!



QUADRAT

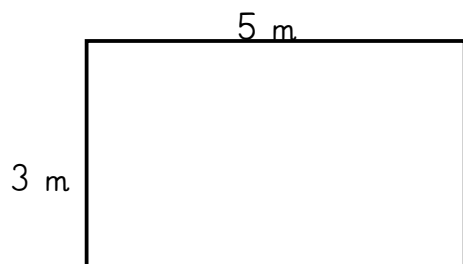
Alle 4 Seiten sind gleich lang!

Fahre den Umfang rot nach und berechne!



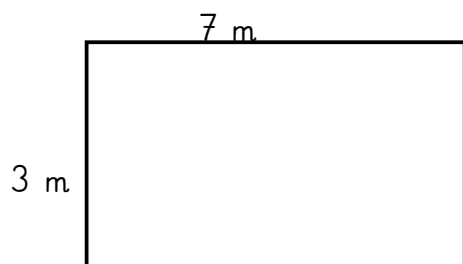
Rechnung:

Der Umfang beträgt ____ m.



Rechnung:

Der Umfang beträgt ____ m.

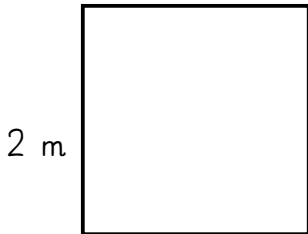


Rechnung:

Der Umfang beträgt ____ m.

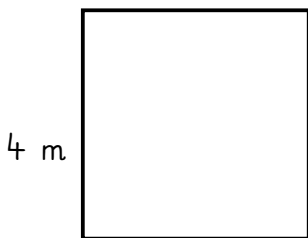
Umfang berechnen

Fahre den Umfang rot nach und berechne!



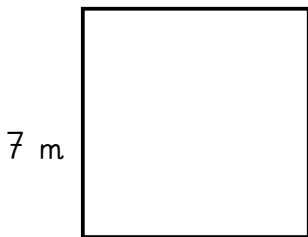
Rechnung:

Der Umfang beträgt ____ m.



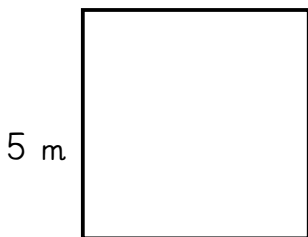
Rechnung:

Der Umfang beträgt ____ m.



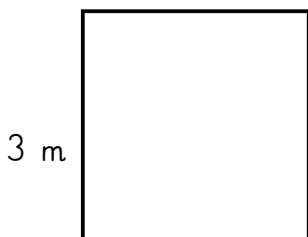
Rechnung:

Der Umfang beträgt ____ m.



Rechnung:

Der Umfang beträgt ____ m.



Rechnung:

Der Umfang beträgt ____ m.