

Name: _____

Datum: _____

Vorgänger - Zahl - Nachfolger

V	Z	N
	4	

V	Z	N
	10	

V	Z	N
	19	

_/3

Ordne die Zahlen der Größe nach - beginne mit der kleinsten Zahl!

10 2 4 9 5 14

--	--	--	--	--	--

_/3

Aufgabenfamilie - mache die 4 Rechnungen die möglich sind.

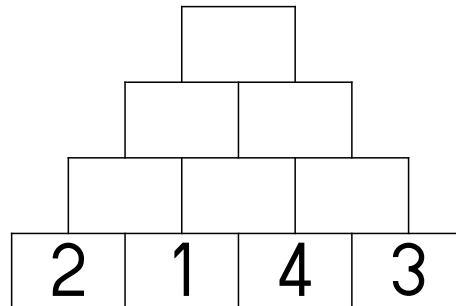
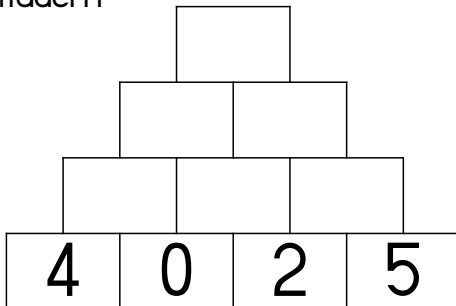
7
11

4

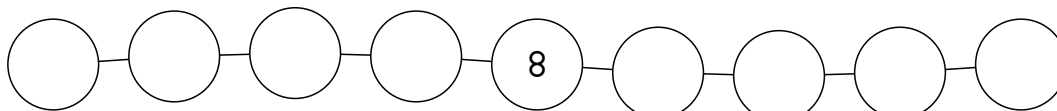
$$\begin{array}{r} _ _ _ + _ _ _ = _ _ _ \\ _ _ _ + _ _ _ = _ _ _ \\ _ _ _ - _ _ _ = _ _ _ \\ _ _ _ - _ _ _ = _ _ _ \end{array}$$

_/2

Zahlenmauern



_/3



_/2

$7 + 2 = \underline{\quad}$ $1 + 4 = \underline{\quad}$	$9 - 3 = \underline{\quad}$ $4 - 3 = \underline{\quad}$	 	 								
$12 + 8 = \underline{\quad\quad}$ $13 + 4 = \underline{\quad\quad}$	$19 - 9 = \underline{\quad\quad}$ $16 - 2 = \underline{\quad\quad}$	 	 								
$7 + 7 = \underline{\quad}$ $8 + 3 = \underline{\quad}$	$11 - 2 = \underline{\quad}$ $15 - 9 = \underline{\quad}$	 	 								
$12 + \underline{\quad} = 20$ $13 + \underline{\quad} = 17$	$18 - \underline{\quad} = 10$ $18 - \underline{\quad} = 12$	 	 								
<p>Sabine würfelt beim Spielen zuerst eine Fünf und dann eine Sechs. Wie viele Felder darf sie vorrücken?</p>		 									
<div style="border: 1px solid black; padding: 5px; display: inline-block;"> R <table border="1" style="display: inline-table; border-collapse: collapse;"> <tr> <td style="width: 20px; height: 20px;"></td> <td style="width: 20px; height: 20px;"></td> <td style="width: 20px; height: 20px;"></td> <td style="width: 20px; height: 20px;"></td> <td style="width: 20px; height: 20px;"></td> <td style="width: 20px; height: 20px;"></td> <td style="width: 20px; height: 20px;"></td> <td style="width: 20px; height: 20px;"></td> </tr> </table> </div>										 	
<div style="border: 2px solid gray; padding: 5px; display: inline-block;"> A: <table border="1" style="display: inline-table; border-collapse: collapse;"> <tr> <td style="width: 600px; height: 20px;"></td> </tr> </table> </div>			 								
<p>Setze das richtige Zeichen < > =</p>		 									
$6 \bigcirc 8$ $13 \bigcirc 9$		$4 + 6 \bigcirc 7$ $8 - 3 \bigcirc 5$									
		$15 \bigcirc 14+2$ $8 \bigcirc 12-3$									
<p>Sehr gut 26 - 23,5 Genügend 16 - 13</p>		<p>Gut 23 - 20 Nicht genügend 12,5 - 0</p>									
<p>Befriedigend 19,5 - 16,5</p>		 									
<p>Punkte:</p>	<p>Note:</p>	<p>Unterschrift:</p> <hr style="width: 100%; border: 0; border-top: 1px solid black;"/>									

Name: _____

Datum: _____

Vorgänger - Zahl - Nachfolger

V	Z	N
	4	

V	Z	N
	10	

V	Z	N
	19	

_/3

Ordne die Zahlen der Größe nach - beginne mit der kleinsten Zahl!

10 2 4 9 5 14

--	--	--	--	--	--

_/3

Aufgabenfamilie - mache die 4 Rechnungen die möglich sind.

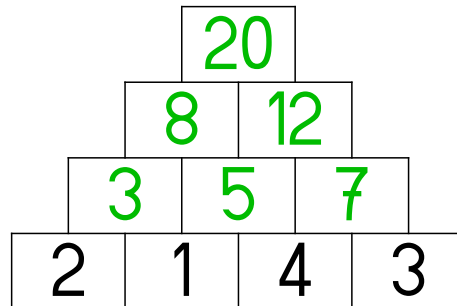
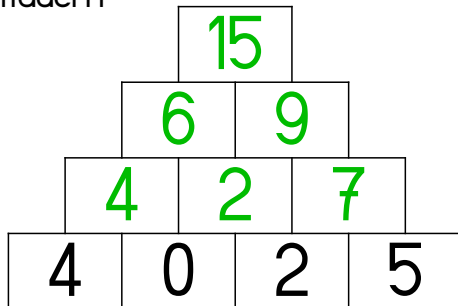
7
4
11

4

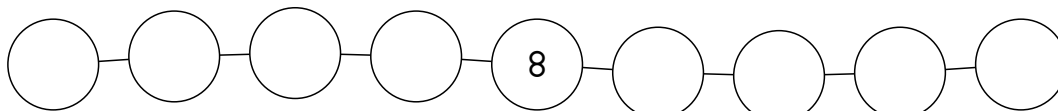
$$\begin{array}{r} _ \ + \ _ \ = \ _ _ _ \\ _ \ + \ _ \ = \ _ _ _ \\ _ _ _ \ - \ _ \ = \ _ _ _ \\ _ _ _ \ - \ _ \ = \ _ _ _ \end{array}$$

_/2

Zahlenmauern



_/3



_/2

$7 + 2 = \underline{9}$ $1 + 4 = \underline{5}$	$9 - 3 = \underline{6}$ $4 - 3 = \underline{1}$	_ / 2								
$12 + 8 = \underline{\underline{20}}$ $13 + 4 = \underline{\underline{17}}$	$19 - 9 = \underline{\underline{10}}$ $16 - 2 = \underline{\underline{14}}$	_ / 2								
$7 + 7 = \underline{14}$ $8 + 3 = \underline{11}$	$11 - 2 = \underline{9}$ $15 - 9 = \underline{6}$	_ / 2								
$12 + \underline{8} = 20$ $13 + \underline{4} = 17$	$18 - \underline{8} = 10$ $18 - \underline{6} = 12$	_ / 2								
<p>Sabine würfelt beim Spielen zuerst eine Fünf und dann eine Sechs. Wie viele Felder darf sie vorrücken?</p>		_ / 2								
<p>R <table border="1" style="display: inline-table; vertical-align: middle;"><tr><td style="width: 20px; height: 20px;"></td><td style="width: 20px; height: 20px;"></td><td style="width: 20px; height: 20px;"></td><td style="width: 20px; height: 20px;"></td><td style="width: 20px; height: 20px;"></td><td style="width: 20px; height: 20px;"></td><td style="width: 20px; height: 20px;"></td><td style="width: 20px; height: 20px;"></td></tr></table></p> <p>A: <table border="1" style="display: inline-table; vertical-align: middle;"><tr><td style="width: 600px; height: 20px;"></td></tr></table></p>										
<p>Setze das richtige Zeichen < > =</p> $6 \bigcirc 8$ $4 + 6 \bigcirc 7$ $15 \bigcirc 14 + 2$ $13 \bigcirc 9$ $8 - 3 \bigcirc 5$ $8 \bigcirc 12 - 3$		_ / 3								
<p>Sehr gut 26 - 23,5 Gut 23 - 20 Befriedigend 19,5 - 16,5 Genügend 16 - 13 Nicht genügend 12,5 - 0</p>										
Punkte:	Note:	Unterschrift: _____								